

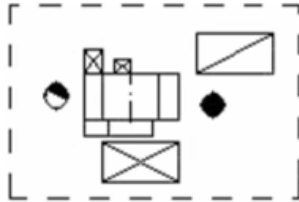
Zadanie 1

Brak filtrów tkaninowych w instalacjach odpylających, w zakładach produkujących płyty wiórowe, może być przyczyną:

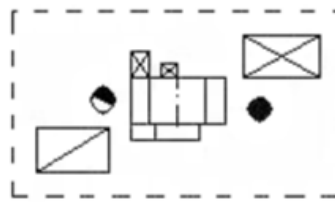
- A. Zanieczyszczenia środowiska trującymi gazami.
- B. Nadmiernego zapylenia środowiska.
- C. Zatrucia wód gruntowych.
- D. Nadmiernego hałasu.

Zadanie 2

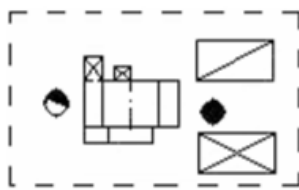
Na którym rysunku zilustrowano stanowisko obróbki maszynowej drewna, które zapewnia ergonomiczne warunki pracy?



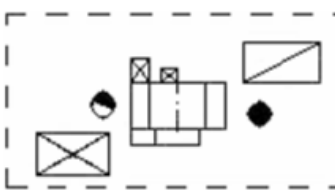
A.



B.



C.



D.



- A. A.
- B. B.
- C. C.
- D. D.

Zadanie 3

W zakładzie przemysłowym produkowane są seryjnie meble z płyty wiórowej laminowanej oraz z płyty pilśniowej półtwardej MDF. Znaczne zapylenie, które powstaje podczas maszynowej obróbki tych materiałów wymaga, aby maszyny i urządzenia były podłączone do skutecznych i sprawnie działających:

- A. Instalacji nawiewowych.
- B. Urządzeń klimatyzacyjnych.
- C. Urządzeń pomiarowych.
- D. Instalacji odpylających.

Zadanie 4

Który środek ochrony indywidualnej powinien stosować pracownik ostrzący frezy nasadzane na półautomatycznej ostrzarce do frezów?

- A. Maskę przeciwpyłową.
- B. Okulary ochronne.
- C. Rękawice ochronne.
- D. Fartuch skórzany.

Zadanie 5

Lampy przenośne oświetlenia miejscowego przy obrabiarkach do drewna powinny być zasilane prądem o napięciu nie wyższym niż:

- A. 24 V.
- B. 90 V.
- C. 240 V.
- D. 380 V.

Zadanie 6

Podczas pracy na pilarsce taśmowej stolarskiej zabrania się:

- A. Stosowania urządzeń podpierających.
- B. Cięcia wzdłużnego, poprzecznego i skośnego.
- C. Pracy w rozpiętej bluzie.
- D. Osłaniania kół taśmowych.

Zadanie 7

Jeżeli podczas cięcia wzdłużnego krótkich elementów z tarcicy brzozonej, na pilarsce tarczowej stolarskiej, pracownik nie stosuje popychacza, to skutkiem niewłaściwej obsługi obrabiarki może być:

- A. Skaleczenie palców dłoni.
- B. Odrzut materiału do tyłu.
- C. Większy opór skrawania.
- D. Zakleszczenie piły w materiale.

Zadanie 8

Używanie w pomieszczeniach lakierni wózka akumulatorowego do transportu lakierowanych elementów lub do transportu materiałów lakierniczych jest zabronione, gdyż może spowodować:

- A. Zatrucie oparami lakieru.
- B. Wzrost poziomu hałasu.
- C. Zapylenie powietrza.
- D. Wybuch pożaru.

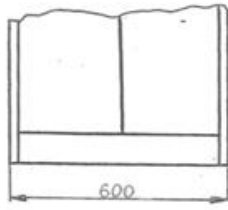
Zadanie 9

Pracownik obsługujący okleiniarkę wąskich płaszczyzn oparzył dłoń, wskutek czego wystąpiło zaczerwienienie skóry i piekący ból. Udzielając mu pierwszej pomocy w pierwszej kolejności należy:


- A. Podać mu ciepły płyn do picia.
- B. Podać mu środki przeciwbólowe.
- C. Ułożyć go w pozycji bocznej ustalonej.
- D. Schłodzić poparzone miejsce czystą zimną wodą.

Zadanie 10

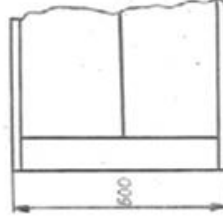
Poprawny zapis liczby wymiarowej względem linii wymiarowej przedstawia rysunek



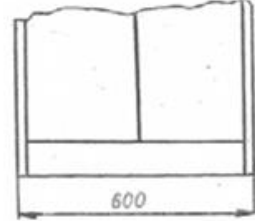
A.



B.



C.



D.

- A. A.
- B. B.
- C. C.
- D. D.